

BEŞER İLERİ VE GERİ RİTMİK SAYMALAR

apodran

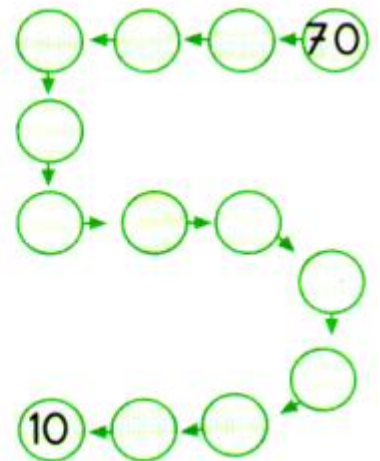
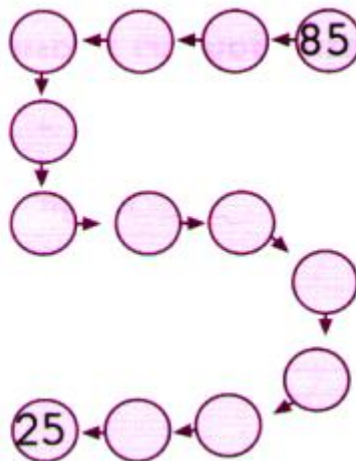
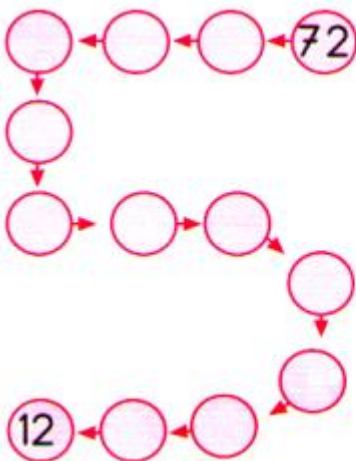
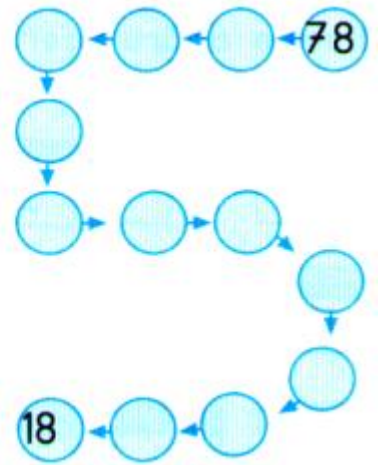
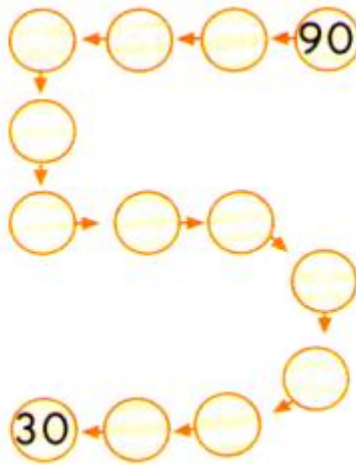
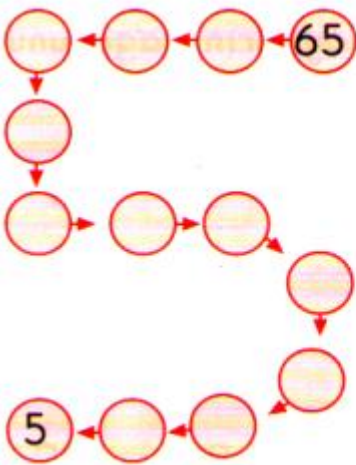
* 100'e kadar ileriye doğru beşer ritmik sayma yaparak söylediğiniz sayıların kutularını boyayınız.



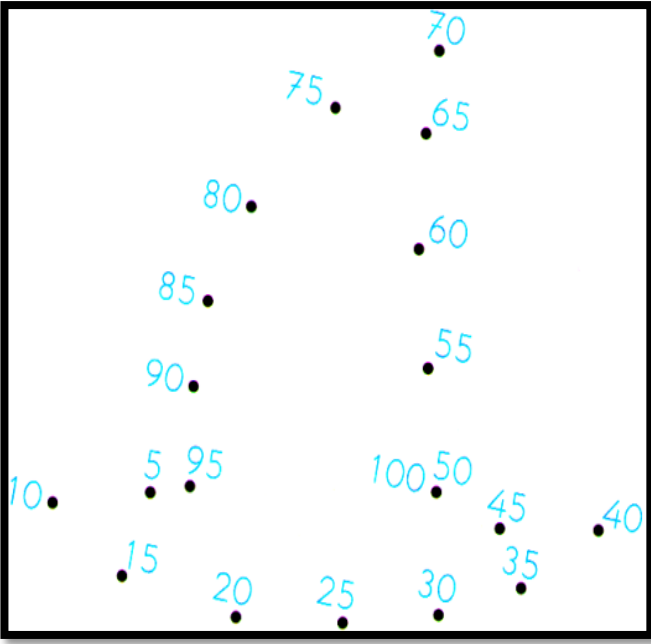
* 100'e kadar ileriye doğru beşer ritmik sayma yapınız.


5 - 10 - - - - - - - - - - - - -
 - - - 100

* Aşağıdaki ritmik saymaları ok yönünde geriye doğru beşer ritmik sayma yapınız.

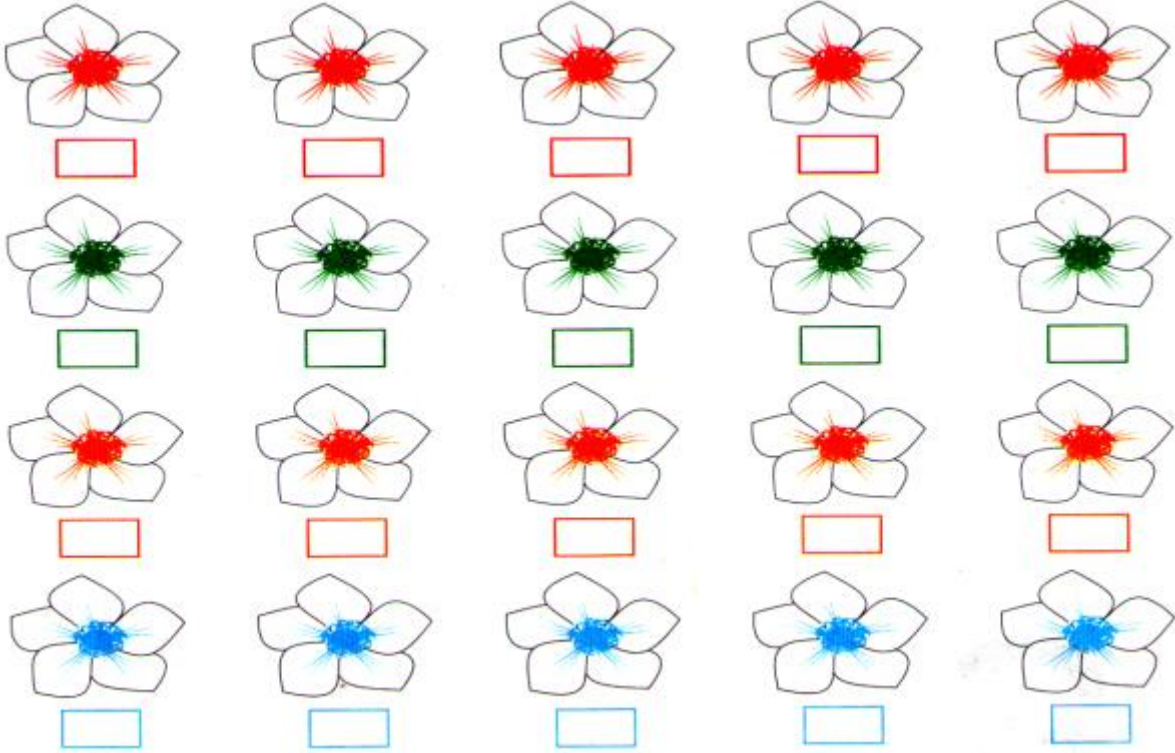


* 5'ten başlayıp 100'e kadar ritmik sayma yapıp noktaları birleştiriniz.



100	90	110	40	170	130	5	105	10	210	185	70
180	205	80	200	60	40	10	130	115	100	20	100
25	65	200	130	70	110	15	20	25	30	15	190
115	90	210	75	155	205	205	120	55	35	40	160
60	105	50	145					180	170	45	50
25	165	210	215					100	100	110	55
65	200	205	100					45	125	105	60
160	195	80	75					145	15	15	65
20	190	10	90	90	115	110	30	120	45	125	80
90	185	30	55	115	110	30	120	45	125	80	150
85	180	175	105	60	140	135	130	150	50	85	90
15	20	170	165	70	145	160	125	65	30	110	95
20	150	140	160	155	150	80	120	115	110	105	100

*Aşağıdaki çiçeklerin yapraklarını beşerli ritmik sayıp kutulara yazın. Çiçekleri boyayıp soruları cevaplayın.



- 4. Çiçekte hangi sayıyı söylediniz?..... - 8. Çiçekte hangi sayıyı söylediniz?.....

SORULAR

1- 25'ten başlayarak **ileriye** doğru beşer ritmik sayma yaparken 6. söylediğimiz sayı nedir?....

2- 65'ten başlayarak **geriye** doğru beşer ritmik sayma yaparken 9. söylediğimiz sayı nedir?....

3- 33'ten başlayarak **ileriye** doğru beşer ritmik sayma yaparken 5. söylediğimiz sayı nedir?....

